

## خودسنجی ۳۰ ش

### زهرا جوکار :مدرس ،مشاور و برنامه ریز کنکور هنر

۱- کدام ویژگی در ماسک طلایی «توت عنخ آمون» دیده می شود؟

- ۱- شکل ساده هندسی و زاویه دار  
۲- آزادی حرکت و حالت  
۳- ترکیب نیمرخ و تمام رخ  
۴- شکل نرم و خم دار

۲- در بررسی آثار مصری ها و میان رودانی ها کدام مورد را می توان وجه اشتراک آنها دانست؟

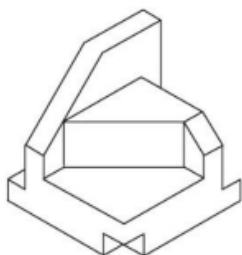
- ۱- ساخت معابد پلکانی  
۲- غلبه ی نقوش گیاهی در آثار تزیینی  
۳- شکل مکعبی و استوانه ای تندیس ها  
۴- طبیعت گرایی در جانورنگاری

۳- در ساخت یک بتن از سه مواد A و B و C مخلوط شده اند به طوری که مواد B سه برابر مواد A و مواد C برابر مجموع دو مواد دیگر است. چند درصد این بتن از مواد C تشکیل شده است؟

- ۱-۲۰  
۲-۳۰  
۳-۴۰  
۴-۵۰

۴- میانگین سه عدد  $\frac{2}{1-\sqrt{2}}$  و  $(\frac{\sqrt{10}}{2})^2$  و  $2\sqrt{2}\sqrt{2}$  کدام است؟

- ۱-  $\frac{1}{2}$   
۲-  $\frac{1}{3}$   
۳-  $\frac{1}{4}$   
۴-  $\frac{1}{6}$



۵- حجم مقابل به چند پاره خط نیاز دارد تا کامل گردد؟

- ۱-۱  
۲-۲  
۳-۳  
۴-۴




۶- نمای داده شده می تواند مربوط به کدام حجم باشد؟

۱- استوانه و مخروط

۲- کره و مخروط

۳- استوانه و کره

۴- استوانه و کره و مخروط




۷- کدام ویژگی بصری در تصویر مقابل بهتر نمایش داده شده است؟

۱- ترکیببندی افقی

۲- ارتباط موثر بین شکل و زمینه

۳- تعادل غیرمتقارن

۴- تناوب در ریتم



۸- کدام گزینه در تصویر مقابل کمتر مورد توجه بوده است؟

۱- تکرار

۲- تباین

۳- بافت

۴- جنبش

۹- مهمترین ویژگی نمایشنامه های دوره ی الیزابتین .... است .

۱- انسان گرایی

۲- توجه به موضوعات تاریخی

۳- توجه به وحدت های کلاسیک

۴- دیدگاه اخلاقی و مذهبی



۱۰- تصویر مقابل با کدام یک انطباق دارد؟

- ۱- ناامیدی      ۲- صمیمیت      ۳- حیرت      ۴- قدرت

۱۱- کدام یک از نسبت های بسامدی زیر مربوط به یک فاصله ترکیبی است؟

- ۱-  $\frac{2}{3}$       ۲-  $\frac{8}{3}$       ۳-  $\frac{10}{9}$       ۴-  $\frac{6}{5}$

۱۲- فونکسیون ساب تونیک (Subtonic) مربوط به کدام درجه هست؟

۱- درجه ی هفتمی که یک پرده تا اکتاو فاصله دارد.

۲- درجه ی هفتمی که نیم پرده تا اکتاو فاصله دارد .

۳- درجه ی دوازدهم گام کروماتیک بالارونده.

۴- درجه ی دوازدهم گام کروماتیک پایین رونده.

۱۳- این تعریف مربوط به کدام گزینه است؟

"همان گچ قرمز است که از اگر، خاک رس یا خاک های قرمز دیگر ساخته می شود"

- ۱- سنگرف      ۲- سانگین      ۳- ورمیلیون      ۴- سرنج

۱۴- از کدام خاک به تنهایی نمی توان استفاده کرد؟

- ۱- کائولن      ۲- بنتونیت      ۳- بال کلی      ۴- گل آخر

۱۵- عبارت زیر چند تک واژه دارد؟

«مطالعه ی ستایش ها و مناجات نامه ها در انسان تأثیرات مثبت گونه گونی از نظر فردی بر جای

می گذارد»

\*\* إقرأ النَّصَّ التَّالِيَّ ثُمَّ أَجِبْ عَنِ الاسْئَلَةِ بِمَا يَنَاسِبُ النَّصَّ :

«في التمر فوائد كثيرة، انه يحتوي على فيتامين. «أ» بنسبة عظيمة، فهو يساعد على نمو الأطفال و زيادة وزنهم و لهذا الاطباء يُسمّونه بـ «عامل النمو»! يقوى التمر و البصرَ يجعله نافذاً قوياً، فسكان الصحراء مشهورون بالرؤية على مسافات بعيدة و هناك صفة للتمر لاتنتبه اليها كثيراً، فهو يُضيف (اضافه مي كند) السكينة الى النفوس المضطربة! و إذا تناولنا التمر مع اللبن يُصبح غذاء كاملاً يحتوي على الفيتامينات اللازمة للجسم»

١٦- عَيِّنِ الصَّحِيحَ :

١- في اللبن نفس فيتامينات التمر

٢- الصحراويون سمّوا التمر بـ «عامل النمو»

٣- الفوائد الموجودة في التمر لا تختص بالعين فقط ٤

٤- أدرك كثير من الناس الفوائد النفسية (الروحية) للتمر

١٧- «خلوص نيت»، «نبودن مفسده»، «آگاه کردن گناه کار به عواقب کار» و «احتمال تأثیر امر به معروف و نهی از منکر» به ترتیب در..... ،..... ،..... و..... امر به معروف و نهی از منکر مطرح می شوند.

٢- روش ها - شرایط - مراحل - شرایط

١- شرایط - مراحل - روش ها - شرایط

٤- شرایط - مراحل - روش ها - مراحل

٣- روش ها - شرایط - روش ها - مراحل

18- He is very impolite. I think his friends have never had any real ..... over him.

1) destination

2) influence

3) definition

4) decision