

خودسنجی ۶۷ ش.ی

زهرا جوکار: مدرس، مشاور و برنامه ریز کنکور هنر

۱- کدام ویژگی در ماسک طلائی «توت عنخ آمون» دیده می شود؟

۱- شکل ساده هندسی و زاویه دار

۲- آزادی حرکت و حالت

۳- ترکیب نیمرخ و تمام رخ

۴- شکل نرم و خم دار

۲- در بررسی آثار مصری ها و میانرودانی ها کدام مورد را می توان وجه اشتراک آنها دانست؟

۱- ساخت معابد پلکانی

۲- غلبه ی نقوش گیاهی در آثار تزیینی

۳- شکل مکعبی و استوانه ای نندیس ها

۴- طبیعت گرایی در جانورنگاری

۳- کدام مورد در رابطه با دستاوردهای هنری در عصر ساسانی فاقد اعتبار است؟

۱- مهم ترین نمونه ی پیکرسازی انسانی در ابعاد عظیم الجثه در ایران باستان به این دوره تعلق دارد .

۲- دستگاه موسیقی ایرانی در این دوره بر اساس ایام هفته، ماه و روزهای سال تنظیم شده بود .

۳- تذهیب کاری این دوره با طرح های هندسی و انتزاعی و حذف پیکره انسانی زمینه ساز سنت کتاب آرایبی اسلامی شد .

۴- شیشه سازی در این دوره برخلاف سفال گری رونق بسیاری داشت و تراش شیشه با چرخ شیشه بری با نهایت ظرافت انجام می گرفت .

۴- مقدمه ی طرح آتشکده ها و کاخ ها با نقشه چلیپایی در ایران را در معماری کدام دوره می توان جستجو کرد؟

۱- هخامنشی


۲- ماد

۳- اشکانی

۴- ساسانی

۵- ترکیب متقارن در کدام گزینه کمتر دیده می شود؟

- ۱- گرافیک ۲- معماری کلاسیک ۳- معماری ایران ۴- صنایع دستی




۶- کدام ویژگی بصری در تصویر مقابل بهتر نمایش داده شده است؟

۱- ترکیب بندی افقی

۲- ارتباط موثر بین شکل و زمینه

۳- تعادل غیرمقارن



۷- کدام گزینه در تصویر مقابل کمتر مورد توجه بوده است؟


۱- تکرار

۲- تباین

۳- بافت

۴- جنبش

۸- در کدام تصویر کیفیت «مختصر گیری» دیده نمی شود؟





۹- کدام گزینه بیشترین تاثیر را روی معناسازی اثر رو به رو داشته است؟

- ۱- ترکیب بندی اریب
 ۲- استفاده از شکل نمادین
 ۳- طراحی حروف خاص
 ۴- نمایش تحرک



۱۰- طراحی مقابل با چه نوع خطی اجرا شده است؟

- ۱- مستقیم
 ۲- شکسته
 ۳- منحنی
 ۴- انواع خطوط

۱۱- معنای چند واژه درست آمده است؟

(تزویر: ریا) (دینار: پول طلا) (محتسب: نگهبان) (مسلک: طریق) (اجانب: بیگانه) (سفله: بدسرسخت) (سریر: اورند) (معجر: سرپوش) (شرزه: شجاع)

- ۱- چهار
 ۲- پنج
 ۳- شش
 ۴- هفت

*عَيْنَ الْأَصْحٰ و الْأَدَقِّ لِلْجَوَابِ لِلتَّرْجَمَةِ أَوْ التَّعْرِيبِ أَوْ الْمَفْهُومِ:

۱۲- «كُلِّ طَعَامٍ إِلَّا يُذَكَّرُ اسْمُ اللَّهِ عَلَيْهِ، لَا بَرَكَهَ فِيهِ:»!

- ۱- هر غذایی که نام خداوند بر آن یاد نشود، هیچ برکتی در آن نیست!
 ۲- هیچ برکتی در غذایی نیست که نام مبارک الله بر آن برده نشود!
 ۳- هر غذایی که نام خدا را بر آن یاد نکنید، هیچ برکتی در آن وجود ندارد!
 ۴- طعامی که نام خداوند بر آن یاد نمی شود، برکتی ندارد!

۱۳- در کدام گزینه اتفاقات قیامت به ترتیب آمده است؟

١- ترؒف الارض و الجبال - يعلمون ما تفعلون - نختم على افواههم

٢- نختم على افواههم - ترؒف الارض و الجبال - يعلمون ما تفعلون

٣- يعلمون ما تفعلون - نختم على افواههم - ترؒف الارض و الجبال

٤- ترؒف الارض و الجبال - نختم على افواههم - يعلمون ما تفعلون

14- The new model is to be released four years

1) therefore

2) hence

3) whereby

4) instead