

# خودسنجی ۸۵ ش.ی.ج

## زهرا جوکار: مدرس، مشاور و برنامه ریز کنکور هنر

۱- در تصویر زیر، کدام مورد در بیان نگرش و اهداف هنرمند بیشترین تأثیر را داشته است؟



۱- ترکیب بندی نامتعارف

۲- کیفیت خط و سطح

۳- تضاد تیرگی و روشنی

۴- تنوع زاویه و بافت

۲- کدام شکل همواره به عنوان یک شکل کامل برای هنرمندان اهمیت داشته و صمیمیت را نشان


می دهد؟

۱- مثلث

۲- بیضی

۳- مربع

۴- دایره



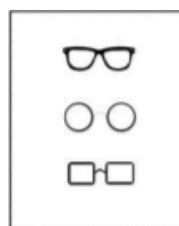
۳- در کدام تصویر مفهوم فضا قابل درک است؟

۱- الف

۲- ب

۳- ج

۴- د



۴- کدام موضوع با تصویر مقابل بیشتر قرابت دارد؟

۱- جاسوسی

۲- ریاکاری

۳- جستجوگری

۴- تكثر آراء

۵- شهرت تپه سیلک بیشتر به واسطه کشف کدام نمونه هاست؟

۱- ظروف سفالی

۲- مفرغینه ها

۳- بنای زیگورات

۴- جام های طلایی

۶- کدام یک از گور دخمه های زیر در منطقه سرپل ذهاب قرار دارد؟

۱- قیز قاپان

۲- دکان داوود

۳- شیرین و فرهاد

۴- فخریگاه

۷- کدام تمدن تاریخی از مهم ترین یافته های جدید باستان شناسان ایرانی است؟

۱- تمدن تپه حصار

۲- تمدن ارت

۳- تمدن تل ملیان

۴- تمدن زیویه

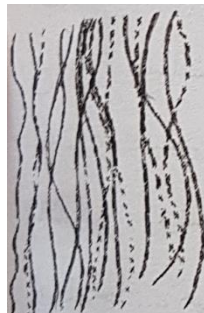
۸- کدام تمدن در ایران فاقد تمهیدات نظامی بوده است؟

۱- شهر سوخته

۲- تپه حسنلو

۳- شوش

۴- تپه سیلک



۹- تصویر رو به رو چه احساسی را تداعی می کند؟

۱- شادابی

۲- ناپایداری

۳- ثبات

۴- تعادل



۱۰- با توجه به نوع خطوط، ویژگی تصویر مقابل چیست؟

۱- ناپایداری و فعالیت

۲- خشونت و بی نظمی

۳- لطافت و شادابی

۴- ثبات و تعادل

۱۱- در معماری بازارهای سنتی، کدام قسمت به «تیمچه» تعبیر شده است؟

۱- حجره های به هم پیوسته دور یک حیاط میانی برای فروش عمده ی کالا

۲- مسیری نسبتاً طولانی با دگن های به هم پیوسته در دو طرف آن

۳- محل تقاطع دو راسته ی اصلی با ظرفیت و تزئینات داخلی فراوان

۴- فضاهای سرپوشیده برای عرضه ی اختصاصی یک نوع کالا

۱۲- کدام گزینه، از کلیساهای سبک رومی وار نیست؟

۱- سن ژیل

۲- سن اتین

۳- پیزا

۴- سن دنی



۱۳- تصویر مقابل، اثر کیست و با چه تکنیکی چاپ شده است؟

۱- کته کل ویتس - لیتوگرافی

۲- کته کل ویتس - کالکوگرافی

۳- آنتونی کلاو - لیتوگرافی

۴- آنتونی کلاو - کالکوگرافی

۱۴- به محلی که منشأ زلزله است و انرژی به یکباره از آن جا آزاد و رها می گردد، چه می گویند؟

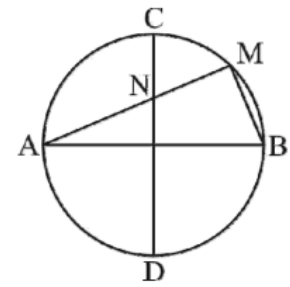
۱- مرکز زلزله

۲- گسل

۳- کانون زلزله

۴- گمانه

۱۵- در دایره ی زیر دو قطر  $AB$  و  $DC$  برهم عمودند و  $MN = MB$  . اندازه ی زاویه ی  $A$  چند درجه



است؟

۲۰-۴

۲۲/۵-۳

۳۶-۲

۳۰-۱

سوال

۰۹۱۷۰۵۲۱۹۲