

## خودسنجی ۸۷ ش.ی.ج

### زهرا جوکار: مدرس، مشاور و برنامه ریز کنکور هنر




۱- کدام ویژگی در عکس مقابل تأثیرگذاری آن را بیشتر کرده است؟

۲- ترکیب مثلثی اثر

۱- لباس همسان فیگورها

۴- تخت شدن فضا به دلیل نورپردازی اثر

۳- جهت نگاه فیگورها




۲- در تصویر روبه رو کدام ویژگی مشاهده نمی گردد؟

۲- عمق نمایی کاذب

۱- ریتم فزاینده

۴- پویایی و جنبش

۳- ساختارگرایی



۳- کدام موضوع از تصویر مقابل برداشت می شود؟

۲- بن بست در زندگی

۱- عدم جامع نگری

۴- خوشبینی و چاره اندیشی

۳- دوراندیشی

۴- به صخره های مخروطی شکل که به عنوان خانه در روستای کندوان مورد استفاده هستند، چه گویند؟

- ۱- کلاوه      ۲- قناویز      ۳- کران      ۴- خیش

۵- کدام محقق غربی اعتقاد دارد که اگر چه تکوین زیگورات ها در بین النهرین است ولی الهام و مفهوم آن آشکارا ایرانی است؟

- ۱- گریشمن      ۲- اپهام پوپ      ۳- هاید ماری کخ      ۴- هرتسفلد


۶- کدام یک قدیمی ترین بنای عظیم شناخته شده در معماری ایران است؟

- ۱- کاخ سوخته      ۲- قلعه ی تپه ارگ      ۳- برج های سیلک      ۴- زیگورات چغازنبیل




۷- تفاوت کیفیت طراحی های رو به رو، به چه دلیل است؟

- ۱- بافت کاغذ      ۲- تفاوت ابزار اثر گذار      ۳- میزان فشار دست طراح      ۴- هر سه مورد



۸- طراحی رو به رو، با چه وسیله ای کار شده است؟

- ۱- قلم آهنی و مرکب      ۲- مداد      ۳- مداد کنته      ۴- زغال



۹- تصویر مقابل چه چیزی را نشان می دهد؟

۲- یک پرنده

۱- ریتم در خط

۴- یک سگ در حالت حمله

۳- یک شتر در حالت نشسته

۱۰- در ساخت کمانچه از چه چوبی استفاده نمی شود؟

۴- بلوط

۳- افرا

۲- توت

۱- گردو

۱۱- کدام گزینه، در رابطه با تکیه و حسینیه صحیح است؟

۱- حسینیه ها کاربرد وسیع تری نسبت به تکایا دارند .

۲- تکایا مخصوص مراسم مذهبی هستند .

۳- در وسط صحن تکایا فضایی کوتاه تر از سطح زمین به کار می رفت .

۴- در اطراف صحن حیاط تکایا حجره هایی در دو طبقه ساخته می شد.



۱۲- تصویر مقابل با کدام شیوه ی حکاکی روی فلز چاپ شده است؟

۲- آکواتینت و مزوتینت

۱- درای پوینت و اچینگ

۴- مزوتینت و درای پوینت

۳- اچینگ و آکواتینت

# FedEx

۱۳- نشانه ی زیر برای کدام مورد مناسب تر است؟

۲- امور رایانه ای و نرم افزاری

۱- ارسال بسته های پستی

۴- شرکت هواپیمایی

۳- نشریه ی سیاسی و اجتماعی

۱۴- کدام سنگ دگرگون نیست؟

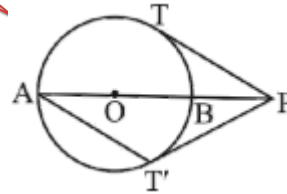
۴- بازالت

۲- سنگ لوح

۲- چینی

۱- مرمر

۱۵- در شکل زیر  $PT$  و  $PT'$  بر دایره مماس اند،  $AT'$  و  $PT$  قطر دایره است. اندازه ی کمان  $TBT'$  چند درجه است؟



۹۰-۴

۱۰۰-۳

۱۲۰-۲

۱۴۰-۱