

خودسنجی ۹۳ ش.ی.ج

زهرا جوکار: مدرس، مشاور و برنامه ریز کنکور هنر

۱- کدام یک از گزینه های زیر موجب تشخیص تفاوت صدای ویلن از هورن حتی در اصوات هم بسامد خواهد شد؟

- ۱- دیرند ۲- نواک ۳- رنگ صوتی ۴- دینامیک

۲- درجه ی هفتم کدام یک از گامهای زیر "دوبل دیز" می گیرد؟

- ۱- فامینور هارمونیک ۲- ر دیز مینور ملودیک
۳- دو دیز مینور ملودیک ۴- فا دیز مینور هارمونیک

۳- در کدام مرحله از تحول زندگی بشر، نیروی تفکر انتزاعی وی هم در شیوه ی تولید و هم در هنر شکل گرا و هندسی رشد می یابد؟

- ۱- فرهنگ شکارگری ۲- هنر پناهگاهی
۳- عصر کشاورزی ۴- دوره ی مهاجرت ها

۴- نخستین نمونه های معماری مسیحی از تغییر کاربری کدام شکل بنا به وجود آمدند؟

- ۱- کلوسئوم ۲- آمفورا ۳- باسیلیکا ۴- پارتنون

۵- وجه اشتراک تمام هنرهای بین النهرین در چیست؟

- ۱- حالت آیینی و رمز گونه ۲- درشت نمایی در چشمها
۳- وحدت فرمهای طبیعی و غیر طبیعی ۴- روایت گری و واقع گرایی

۶- در دنباله اعداد، $\frac{3}{4}$ ، ۲، ۳ جمله هفتم کدام است؟

- ۱- $\frac{64}{243}$ ۲- $\frac{64}{81}$ ۳- $\frac{32}{729}$ ۴- $\frac{32}{243}$

۷- کدام گزینه نزدیکترین حالت به آبی اصلی در چرخه ی رنگ هاست ؟

۱- آبی الترامارین ۲- آبی کبالت یا الترامارین + سفید

۳- آبی پروس ۴- آبی کبالت + الترامارین

۸- کدام یک از ویژگی های سینمایی " موج نو " است ؟

۱- شکار بی خبر زندگی ۲- تحقق آرمان " گام های آهسته و خسته "

۳- گرایش به انتقادهای تلخ اجتماعی ۴- توجه به نظریه ارجاع به خویش

۹- نام کدام قهرمان افسانه ای و ملی ایران، در سوگنامه " یادگار زریران " آمده است ؟

۱- رستم ۲- اسفندیار ۳- زال ۴- شغاد

۱۰- از کدام ملات برای بند کشی و آجر چینی آجر های نما استفاده می شود ؟

۱- سیمان سفید ۲- سیمان نوع ۴۰ ۳- ماسه بادی و سیمان ۴- ماسه سیمان ۱:۶

۱۱- کدام گزینه پیرامون تندیس های به دست آمده از «تل اسمر» صحیح است؟

۱- ایستاده با حالتی واقعگرا و پویا

۲- تشریفاتی با مردمک هایی از سنگ های رنگین


۳- پر صلابت با دست های آویخته به علامت نیایش

۴ - چشمانی درشت با اندامی در اندازه معمولی


۱۲- معماران رومی در جهت استحکام بیشتر بنا کدام روش را به صورتی مبتکرانه به کار گرفتند؟

۱- طاق مرکب ۲- سیمان پرتلند ۳- طاق آهنگ ۴ - سقف کلوناد

۱۳- در نشانه ی «سازمان کتاب های درسی ایران» چه ترفندی برای حساسیت بخشی به حروف به



کار برده شده است؟



۱- اختصار

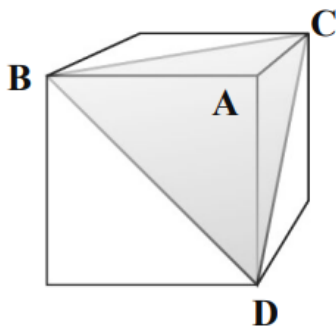
۲- ایجاد پیوستگی در حروف

۳- استفاده از خطوط دربرگیرنده

۴- مماس کردن حروف

در مکعب شکل زیر، اگر طول هر یال برابر $6\sqrt{2}$ باشد، آن گاه فاصله ی رأس A از صفحه ی BCD کدام

است؟



(۱) $2\sqrt{6}$

(۲) $4\sqrt{6}$

(۳) $2\sqrt{3}$

(۴) $4\sqrt{3}$

-۱۴

با مربعی به مساحت 100cm^2 استوانه ای می سازیم. حجم استوانه چند سانتی متر مکعب است؟

(۴) $\frac{25}{\pi^2}$

(۳) $\frac{250}{\pi^2}$

(۲) $\frac{25}{\pi}$

(۱) $\frac{250}{\pi}$

-۱۵