

## خودسنجی ۱۰۴.ش.ج

### زهرا جوکار: مدرس، برنامه ریز و مشاور کنکور هنر

۱- کدام پرتو در ورود از هوا به منشور کمتر منحرف می شود؟

۱- قرمز      ۲- سبز      ۳- آبی      ۴- بنفش

۲- جهت رسم قوسی مماس به دو دایره مقابل چند عمل ترسیمی نیاز است و چند بار از پرگار



استفاده می شود.

۲-۴ عمل ترسیمی - ۳ بار

۱-۳ عمل ترسیمی - ۲ بار

۴-۴ عمل ترسیمی - ۲ بار


۳-۳ عمل ترسیمی - ۳ بار



۳- کدام گزینه با ویژگی های تصویر روبه رو همخوانی دارد؟

۱- مسخ کودک امروز، دگردیسی و تغییر      ۲- تضاد شخصیتی کودکان، ریتم و تکرار

۳- خلق گروهی یک دنیای فانتزی، ترکیب و کالژ عناصر      ۴- حمایت از کودکان، تمرکز گرایی



۴- کدام ویژگی از تصویر مقابل بیشتر برداشت می شود؟

۴- القای بعد

۳- تمرکز

۲- امتداد و تداوم

۱- تحرک



۵- کدام موضوع در تصویر سازی مقابل دیده می شود؟

- ۱- بدگویی      ۲- تصمیم گیری      ۳- وحدت و همراهی      ۴- توطئه

۶- لقب "همیشه استاد" مربوط به کدام فیلمساز است؟

- ۱- اورسون ولز      ۲- کوروساوا      ۳- رنوار      ۴- هیچکاک

۷- کدام یک از جمله فواصل "صغار" محسوب می شود؟

- ۱- بیش طنینی      ۲- مجنب      ۳- زائد      ۴- ذوالاربع

۸- قطعه ای "سازی (Instrumental)" « که ملهم از شعر یا داستان بوده و در دوره رمانتیک کاربرد داشته را چه می گویند؟

- ۱- بالاد      ۲- لید      ۳- والس      ۴- پولونز

۹- کدام یک از جمله سازهای ایدیوفون موسیقی نواحی ایران است؟

- ۱- قوال      ۲- تیمبوک      ۳- سمار دف      ۴- کرب

۱۰- انگشت بنصر روی وتر مطلق فا کدام نت را ایجاد می کند؟

- ۱- لا      ۲- سی بمل      ۳- لا بمل      ۴- لا کرن

۱۱- از نظر باستان شناسان، قدیمی ترین نمونه ی استفاده از ستون در معماری کدام است؟

- ۱- زیگورات چغازنبیل      ۲- تپه ملیان      ۳- تپه حسنلو      ۴- خانه های پلکانی شهر سوخته

۱۲- در ساخت کدام بنا از طاق گهواره ای پیوسته، استفاده شده است؟

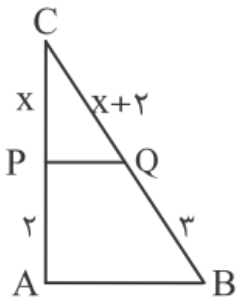
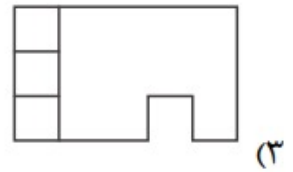
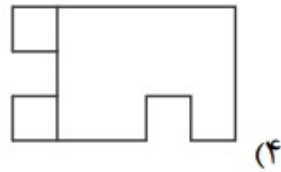
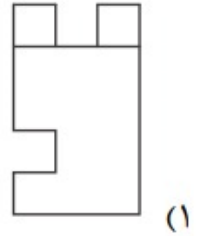
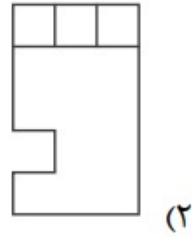
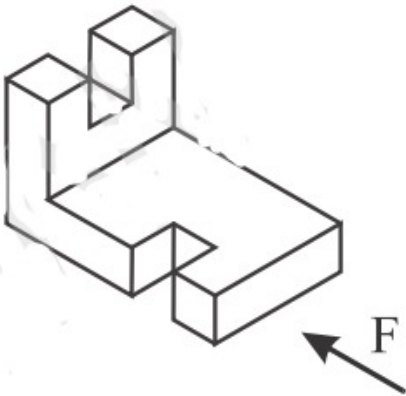
۲- طاق گرا

۱- مسجد جامع نائین

۴- کلیسای سانتا ماریا دلفیوره

۳- کلیسای سنت ماری دامر

۱۳- با توجه به حجم مقابل، نمای افقی کدام است؟



۱۴- در شکل زیر، خط  $AB$  و  $PQ$  موازی هستند. مقدار  $x$  کدام است؟

۳-۴

۶-۳

۴-۲

۲/۵-۱

۱۵- تصویر مقابل، صحنه ای از کدام یک از نمایشنامه های شکسپیر را نشان می دهد؟



۴- اتللو

۳- شاهلیر

۲- رومئو و ژولیت

۱- هملت