

خودسنجی ۱۳ ش.ج

زهرا جوکار: مدرس، برنامه ریز و مشاور کنکور هنر

۱- کدامیک از ویژگیهای چهرهپردازی در سبک اکسپرسیونیسم است؟

- ۱- استفاده از رنگ زرشکی - آبی دودی ۲- استفاده از رنگهای مات و براق و موهای رنگی
۳- چهره های لاغر و رنگ پریده ۴- استفاده از رنگهای طلایی و نقره ای

۲- در کدامیک از انواع معماری صحنه می توان تاکید واقع گرایی داشت؟

- ۱- آرنا ۲- پروسونیوم ۳- هلالی ۴- بلک باکس

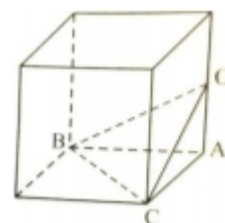
۳- در کدام یک از شیوه های پرده عریض از عدسی آنامورفیک استفاده می شود؟

- ۱- ایستمن کالر ۲- اسکوپ ۳- تاد ای او ۴- پاناویژن

۴- اصطلاح گل بندی مربوط به کدام دوره و کدام هنر است؟

- ۱- خاتم - قاجار ۲- منبت - صفویه ۳- معرق - قاجار ۴- خاتم - صفویه

۵- در شکل روبه رو، O وسط یال مکعب است. حجم هرم OABC چند برابر حجم مکعب است؟



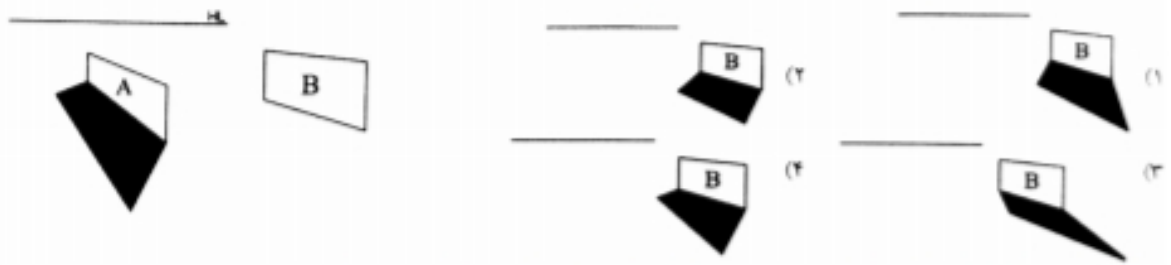
۴- $\frac{1}{16}$

۳- $\frac{1}{12}$

۲- $\frac{1}{9}$

۱- $\frac{1}{8}$

۶- با توجه به سایه دیوار A، سایه دیوار B کدام است؟



۷- تصویر سازی رو به رو به کدام داستان اشاره می کند؟

۱- شاهزاده و گدا

۲- زندگی حضرت موسی (ع)

۳- شازده کوچولو

۴- لیلی و مجنون

۸- در تصویر مقابل اثر "رنه ماگریت" انتخاب بافت تأثیر زیادی در نشان دادن دارد.



۱- مسخ انسان ها

۲- جهان تخیل

۳- زندگی انسان

۴- یگانگی و زندگی جمعی انسان ها

۹- کدامیک از تأثیرات گروتسک بر مخاطب تئاتر نمی باشد؟

۱- غالباً به صورت سلاحی تهاجمی به کار گرفته می شود.

۲- در آمیختن عناصر هم ساز که می تواند باعث حیرت شود.

۳- گاه خوفناک و گاه نشاط آمیز دیده می شود.

۴- از تأثیر ضربه ی گروتسک می توان برای گیج کردن و حیران کردن استفاده کرد .

۱۰- در چاپ قلمکار جهت پخش نشدن رنگها از کدام ماده استفاده می شود ؟

- ۱- گلیسیرین ۲- روغن کنجد ۳- کتیرا ۴- روغن کرچک

۱۱- نقاشی با مرکب در دوران نوین هنر ژاپن، تحت تأثیر هنر کدام دوره ی چین، شکل گرفت؟

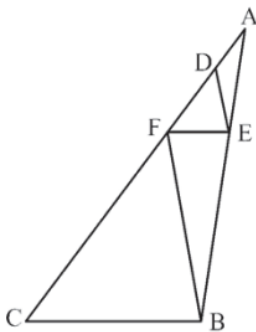
- ۱- سونگ ۲- چینگ ۳- مینگ ۴- یوآن

۱۲- بهره گیری از کدام شرایط در عکاسی، عمق میدان وضوح بیشتر می شود؟

- ۱- لنز تله و دیافراگم باز ۲- لنز واید و دیافراگم باز
۳- لنز تله و دیافراگم بسته ۴- لنز واید و دیافراگم بسته

۱۳-

- در شکل زیر، $AD = 2$ ، $FD = 4$ ، $DE \parallel FB$ و $EF \parallel BC$ می باشد، طول FC چقدر است؟



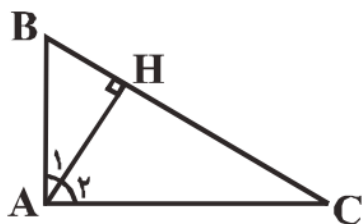
(۱) ۱۲

(۲) ۸

(۳) ۶

(۴) ۹

- در مثلث شکل زیر اگر $\hat{A}_1 < \hat{A}_2$ باشد، آن گاه کدام گزینه لزوماً درست است؟



(۱) $AC < BC$

(۲) $AC < AB$

(۳) $AC > BC$

(۴) $AC > AB$ -۱۴

۱۵- در صفحه آرایي مقابل، از کدام روش برای چیدمان تصاویر استفاده شده است؟



۱- تداوم خطی

۲- بلوک تصویری

۳- ترکیب آزاد

۴- نسبت طلایی

جوکار
۰۹۱۷۰۵۲۲۱۹۲