

خودسنجی ۱۴ ش.ج

زهرا جوکار: مدرس، برنامه ریز و مشاور کنکور هنر

۱- این تعریف مربوط به کدام هنر است؟

"هنری مشتمل بر دو لایه چوب مشبک شده که در بین آنها قطعات شیشه رنگی قرار میگیرد."

۱- کوفتگری ۲- قواره بری ۳- پارچه بری ۴- قاطعی

۲- کدام گزینه درباره عکاسی پرتره صحیح است؟

۱- لنز تله، فیلم حساسیت کم، فیلتر زرد ۲- لنز تله، فیلم حساسیت متوسط، فیلتر UV

۳- لنز نرمال، فیلم حساسیت کم، فیلتر زرد ۴- لنز نرمال، فیلم حساسیت متوسط، بدون فیلتر

۳- برای داشتن تصویری با عمق میدان زیاد کدام مناسب است؟

۱- دیافراگم باز ۲- دیافراگم بسته ۳- دیافراگم متوسط ۴- لنز تله

۴- در شکل مقابل یک مکعب مستطیل با بیشترین حجم درون استوانه ی قائمی محاط شده، حجم



استوانه چند برابر حجم مکعب مستطیل است؟

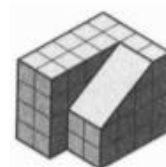
۴- $\frac{\pi}{2}$

۳- $\frac{\pi}{6}$

۲- $\frac{\pi}{3}$

۱- $\frac{\pi}{4}$

۵- باتوجه به شکل زیر، مکمل جسم موجود، شامل چند مکعب کوچک خواهد بود؟



۴-۱۶

۳-۱۵

۲-۱۴

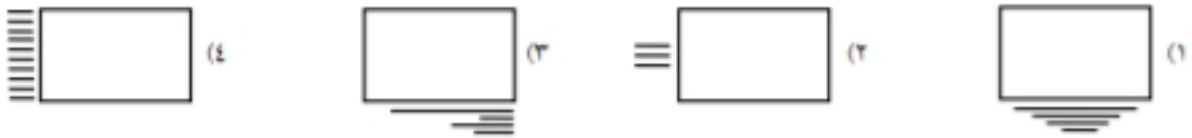
۱-۱۳



۶- کدام مفهوم به نشانه ی روبه رو نزدیک تر است؟

- ۱- خانواده و فرهنگ ۲- جامعه ی متحد ۳- کتابخانه ی مرکزی ۴- رسانه های ملی

۷- کدام روش صفحه آرایی برای شرح عکس یک مجله ی هنرهای تجسمی مناسب تر است؟



۸- کدام جمله درباره تاریخ سینمای ایران صحیح است؟

۱- اولین فیلمبردار حرفه ای ایران که همراه با ناصرالدین شاه سینما را وارد ایران کرد ابراهیم خان عکاس باشی بود.

۲- سینما توسط مهدی روسی خان برای مردم عمومی شد .

۳- فیلم های سپنتا در ترکیه فیلمبرداری و ساخته می شد و مضامینی حماسی داشت.

۴- خان بابا معتضدی با ساخت اولین فیلم های رنگی در ایران مشهور شد

۹- در طراحی صحنه، تصویر مقابل صورتک آویزان شده کدام مفهوم را بیان می کند؟



- ۱- بیگانگی ۲- قداست ۳- تسلط ۴- مسخ

۱۰- کدام اصطلاح گونه ای آرپژ معروف و مربوط به دوران کلاسیک است؟

- ۱- باس آلبرتی ۲- باسو کنتینوئو ۳- باسو استیناتو ۴- باسو کنتابیله

۱۱- دیوارنگاره های غارهای دون هوانگ با کدام ویژگی ها ایجاد شدند؟

۱- تجسم صحنه های مذهبی با رعایت اصل یک دستی قلم مو از عهد شش پادشاهی

۲- ایجاد سرزندگی در پیکره های بودای موعود در قالب هنر عهد سونگ

۳- مناسبت رنگ با نقش در چهره های مقدس به تأثیر از هنر هندو

۴- ترسیم حالات و رخدادهای زندگی بودا به تأثیر از هند در عهد تانگ

۱۲- کدام مورد از مهمترین آثار عهد هان در چین است؟

۱- تندیس های سفالین لعابدار از بودای نشسته

۲- بخورسوز با درپوشی به شکل کوه

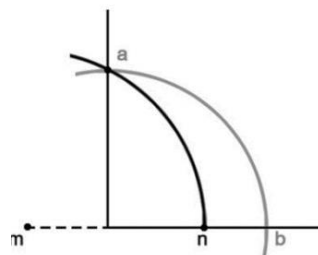
۳- پاگودا بنای یادبود بودا

۴ - نخستین عناصر منظره نگاری به سبک آبی و سبز

۱۳- ساق های یک مثلث متساوی الساقین با ساق های مثلث متساوی الساقین دیگری برابرند. زاویه بین ساق ها در دو مثلث مکمل یکدیگرند. اگر این دو مثلث در ساق ها کنار هم قرار گیرند، کدام نوع مثلث حاصل می شود؟

۱- قائم الزاویه ۲- متساوی الاضلاع ۳- منفرجه الزاویه ۴- متساوی الساقین

۱۴- جهت تقسیم زاویه ۹۰ درجه به ۵ قسمت مساوی نقطه n را به دست آورده ایم، عمل ترسیمی



بعدی کدام است؟

۲- رسم کمان به مرکز b و شعاع bn

۱- رسم کمان به مرکز a و شعاع am

۴- رسم کمان به مرکز a و شعاع bn

۳- رسم کمان به مرکز a و شعاع an



۱۵- کدام ویژگی به شکلی ویژه در پوستر روبه رو استفاده شده است؟

۲- فضای مثبت و منفی

۱- تضاد شدید تیرگی روشنی

۴- فضای خالی

۳- زاویه دید خاص