

خودسنجی ۱۸ ش.ی.ج

زهرا جوکار: مدرس، مشاور و برنامه ریز کنکور هنر



۱- اثر مقابل معرف هنر کدام دوره و از کدام منطقه بدست آمده است؟

۱- دوره ی هخامنشی - گنجینه جیحون ۲- دوره ی مادی - محوطه کلاردشت

۳- هنر سکایی - گنجینه زیویه ۴- هنر مانایی - تپه حسنلو

۲- کدام یک از کتیبه های زیر کلید رمز گشایی اغلب خطوط میخی گردید؟

۱- کتیبه بوکان ۲- کتیبه گنج نامه

۳- کتیبه بیستون ۴- کتیبه داریوش در تخت جمشید

۳- کدام یک از جمله بقایای دژسازی مادی است که شامل هفت حصار با رنگ های متمایز است؟

۱- اکیاتان ۲- راگ ۳- اسپدانه ۴- بغستانه

۴- کلاه نمدی و مخروطی شکلی را که مادها بر سر می گذاشتند چه می نامند؟

۱- کومخ ۲- ساروق ۳- تیار ۴- چاروق

۵- نخستین جهانگرد اروپایی که به تخت جمشید سفر کرد و در سفرنامه اش از آن با عنوان «چهل

منار» یاد کرده است. که بود و در کدام قرن به ایران آمد؟

۱- دیولافوا- قرن ۱۸م ۲- رمان گیرشمن- قرن ۱۹م

۳- توماس هربرت- قرن ۱۷م. ۴- جوزف باربارو- قرن ۱۵م

۶- کدام یک به عنوان کاخ اختصاصی خشایارشا در تخت جمشید شناخته می شود؟

۴- بنای ساخلو

۳- تالار شورا

۲- قصر تچر

۱- کاخ هدیش



۷- تصویر مقابل ویژگی های کدام سبک هنری را نمایش می دهد؟

۴- کانستراکتیویسم

۳- اکسپرسیونیسم

۲- کوبیسم

۱- فوتوریسم



۸- تکنیک چاپی اثر مقابل کدام است؟

۱- ترکیب تکنیک لیتوگرافی و سیلک اسکرین

۲- مونوتایپ به شیوه طراحی پشت کاغذ

۳- چاپ چوب رنگ آمیزی شده با تکنیک آلابوئه

۴- حکاکی رو فلز با یک کلیشه و تکنیک مونوپرینت

۹- مجموع n عدد طبیعی زوج و متوالی شروع از ۲، مساوی ۳۶ برابر عدد n است. بزرگترین این

اعداد کدام است؟

۴-۷۴

۳-۷۰

۲-۳۷

۱-۳۵

۱۰- کدام کانی به راحتی روی شیشه خط نمی اندازد؟

۴- یاقوت

۳- توپاز

۲- فلدسپار

۱- کوارتز

۱۱- کدام گزینه نادرست است؟

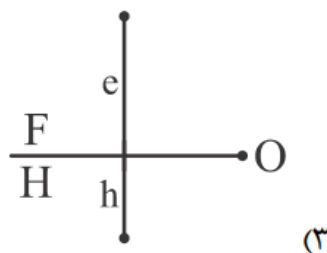
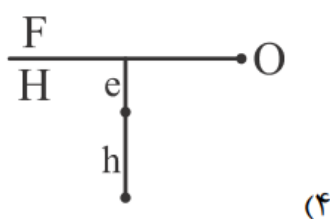
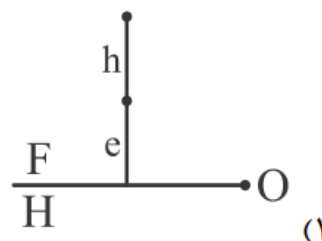
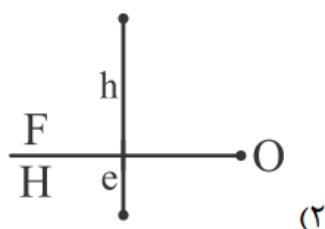
۱- در هنرهای تجسمی جنبه ی زیبایی شناختی و مبانی نظری قوت بیشتری دارد.

۲- در صنایع دستی هر دو جنبه ی تجسمی و کاربردی در اثر وجود دارد .

۳- در صنایع دستی هر چه بعد کاربردی قوی تر باشد به عنوان صنایع شناخته می شود .

۴- در تقسیم بندی شکل ظاهری اثر، هندسه ی پنهان و آشکار، زیرمجموعه ی آرایه هستند.

۱۲- کدام گزینه نشان دهنده ی نقطه ی $A(x, e, h)$ با e و h مثبت است؟



۱۳- کدام یک از گزینه های زیر، از ژانرهای تئاتر نیست؟

۴- تراژدی کمدی

۳- کمدی

۲- تراژدی

۱- گروتسک

۱۴- کدام نت از «دو»ی وسط بم تر است؟

۱- نت «سی» با یک خط بالای حامل کلید دوی خط سوم

۲ - نت «سل» بالای پنج خط حامل کلید سل

۳- نت «ر» زیر پنج خط حامل کلید سل

۴ - نت «فا» روی خط چهارم حامل کلید فای خط چهارم

۱۵- حاصل عبارت مقابل کدام است؟

$$\frac{1}{\sqrt{2}} \times \frac{1}{\sqrt[3]{2}} \times \frac{1}{\sqrt[4]{2}} = ?$$

$$\frac{1}{\sqrt[12]{2}} \quad (۴)$$

$$\frac{1}{\sqrt[12]{2}} \quad (۳)$$

$$\frac{1}{\sqrt[12]{2}} \quad (۲)$$

$$\frac{1}{\sqrt[12]{2}} \quad (۱)$$

فورا
www.52192.com