

خودسنجی ۶۴ ش.ج

زهرا جوکار: مدرس، مشاور و برنامه ریز کنکور هنر

۱- کدام نقش مایه در فاصله ی سده ی هفتم تا سیزدهم میلادی در هنر هند جایگاهی ویژه داشت؟

۱- شخصیت معنوی بودیساتوا با گل لوتوس در دست

۲- بودا به شکل انسانی نحیف در مقام روزه گیر

۳- رقصنده ای کیهانی در میان حلقه آتش

۴- رخدادهای زندگی بودا در قالب نمادین

۲- سبک مجسمه سازی گاندهارا چگونه مشخص می شود؟

۱- اندام فرا انسانی با شانه های پهن و کمر باریک

۲- تأکید بر ویژگی های عاطفی و طبیعت گرایانه

۳- چهره سازی لطیف همراه با ردایی نازک

۴- نرمی حرکات با تأکید بر برجستگی های جسمانی

۳- مربع مجموع دو عدد صحیح، از مجموع مربعات آنها 10^2 واحد بیشتر است. حاصل ضرب این دو عدد کدام است؟

۱۰۲۰-۴

۷۷۵-۳

۲۸۵-۲

۲۵۵-۱

۴- حاصل ضرب دو عدد زوج متوالی، ۱۱ واحد بیشتر از ۱۱ برابر مجموع آن دو عدد است. مجموع ارقام عدد بزرگتر، کدام است؟

۶-۴

۴-۳

۲-۲

۱-صفر



۵- نمای داده شده می تواند مربوط به کدام حجم باشد؟

- ۱- استوانه و مخروط ۲- کره و مخروط ۳- استوانه و کره ۴- استوانه و کره و مخروط

۶- کدام گزینه در مورد نحوه استفاده از رایید درست است؟

- ۱- هنگام ترسیم زاویه رایید با خط افق نباید از ۸۲ درجه بیشتر باشد .
۲- برای آماده سازی رایید باید آن را در جهت افق تکان دهیم .
۳- پس از اتمام کار ، مخزن رایید را در آب سرد قرار می دهیم .
۴- پس از اتمام کار ، نوک و تنه قلم را زیر فشار آب گرم می گیریم .

۷- کدام خصوصیت، اثر مقابل را بیشتر جالب توجه کرده است؟



۱- نمونه ای از ترکیب متقارن در هنر جدید

۲- نوع کژنمایی متفاوت فرمها در آن

۳- استفاده از پرسپکتیو مقامی و تضاد شدید تیرگی روشنی

۴- توجه به حالت های روانی شخصیت ها و روایت گری

۸- در کدام تصویر کیفیت « مختصر گیری » دیده نمی شود؟



(۴)



(۳)



(۲)



(۱)

۹- کدام یک از ویژگی های نمایشنامه های « شکسپیر » نیست؟

۱- وجود شخصیت محرم راز

۲ - خطابه گویی

۳- عدم توجه به وحدت های سه گانه

۴ - حضور شخصیت قاصد یا خبر رسان



۱۰- تصویر مقابل پوستر کدام فیلم است؟

۱- مکبث

۲- اتللو

۳- شاه لیر

۴- هملت

۱۱- به ترتیب، بالاترین نقطه ی ذوب و بیشترین قابلیت هدایت الکتریکی، مربوط به کدام مورد است؟

۱- آلومینیوم - مس

۲- ولفرام - نقره

۳ - آلومینیوم - نقره

۴ - ولفرام - مس

۱۲- برای ساخت مثلث های سیاه در «خاتم سازی»، از کدام چوب استفاده می شود؟

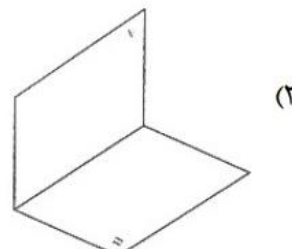
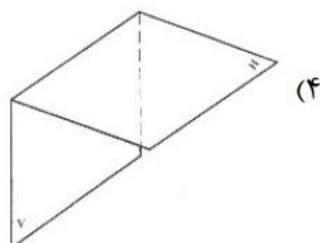
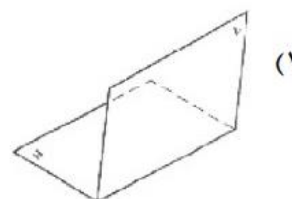
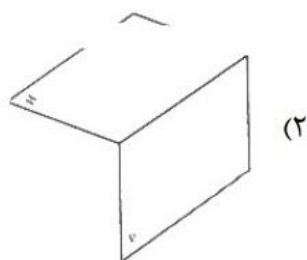
۱- بقم

۲- عناب

۳- آبنوس

۴- شمشاد

۱۳- نقشه کشی به روش آمریکایی در کدام فرجه انجام می شود؟



۱۴- ایجاد خط وزبان پارسی میانه، منسوب به کدام دوره ی تاریخی است؟

۴- اشکانیان

۳- سلوکیان

۲- هخامنشیان

۱- ساسانیان

۱۵- کدام یک از موارد زیر از ویژگی های پیکره های سومری نیست؟

۱- شکل ظاهری مخروطی یا استوانه ای و ایستایی پیکره ها

۲- مهارت ساخت پیکره ها با تلفیق مواد و مصالح گوناگون

۳- وقار رمزگونه و تأکید بر قدرت پادشاهی

۴- کاربرد آیینی و ترکیب عناصر جانوری و انسانی

جوکار
۰۹۷۰۵۲۶۹۲