

خودسنجی ۹۳ ش.ج

زهرا جوکار: مدرس، برنامه ریز و مشاور کنکور هنر

۱- از کدام مورد برای رقیق کردن رنگ ها در نقاشی استفاده می شود؟

- ۱- تربانتین ۲- اسطوخودوس ۳- بنزین سفید ۴- همه موارد

۲- قدیمی ترین شکل آثار نقاشی دیواری به روش فرسک مربوط به دیوار نگاره های چه تمدنی است

- ۱- بین النهرین ۲- یونان ۳- روم ۴- مصر

۳- با کدام یک از لنز های زیر در شرایط نوری یکسان (سوژه ای با نور محیطی کم) می توان با سرعت بیشتری عکاسی کرد؟

- ۱- لنز با $f=135 \text{ mm}$ و دیافراگم ۴
۲- لنز با $f=50 \text{ mm}$ و دیافراگم ۲
۳- لنز با $f=35 \text{ mm}$ و دیافراگم $2/8$
۴- لنز با $f=80 \text{ mm}$ و دیافراگم $1/8$

۴- در فیلم Twister خمیر مایه ی داستان بر پایه ی کدامیک از انواع کشمکش استوار است؟

- ۱- کشمکش انسان با طبیعت
۲- کشمکش انسان با سرنوشت
۳- کشمکش انسان با اجتماع
۴- کشمکش انسان با نسان

۵- اصول شش گانه ی نقاشی چینی را در دوره ی پایه ریزی کرد؟

- ۱- شی هو - هان ۲- هسیه هو - سوئی ۳- مینگ فو - تانگ ۴- کوانگ وانگ - سونگ

۶- کهن ترین ساز زهی زخمه ای جنوب هند چه نام دارد؟

- ۱- سیتار ۲- مریدانگام ۳- سارود ۴- وینا



۷- طراحی مقابل اثر کیست؟

- ۱-رافائل ۲- دگا ۳- انگر ۴-سزان

۸- کدام یک جزو "گروه ۵ نفره روس" نمی باشد؟

- ۱-موسورگسکی ۲-چایکوفسکی ۳-کورساکف ۴-بورودین

۹- شیشه های کراون یا اپتیکی جزو کدام دسته از شیشه ها هستند؟

- ۱-بوروسیلیکاتی ۲-پرسیلیس ۳-قلیایی-آهکی ۴-سربی

۱۰- کدامیک می تواند محلول ظهور سریع تری بسازد؟

- ۱-بوراکس ۲-کدالک ۳-کربنات سدیم ۴-پتاس

۱۱- در نظام الفبایی نام گذاری نت های موسیقی به ترتیب از راست به چپ، کدام حرف در کشورهای انگلیسی زبان معرف نت «سل» و کدام حرف در کشورهای آلمانی زبان معرف نت «سی» است؟

- ۱- G و H ۲- B و G ۳- B و C ۴- C و H

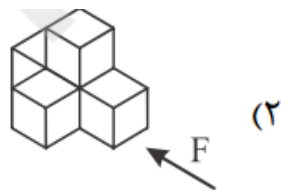
۱۲- با ۲۰ درصد از باقیمانده ی یک لیتر رنگ که ۴۰ درصد از آن صرف رنگ کردن ۲ متر از دیوار ۳ متری شده است، چند درصد دیگر از کل دیوار را می توان رنگ کرد؟

- ۱- ۳۳/۳ ۲- ۳۰ ۳- ۲۰ ۴- ۴۰

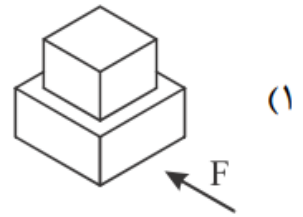
۱۳- در یک مشارکت، سرمایه ی اولی ۲۴ واحد پول در مدت ۲ سال و سرمایه ی دومی ۲۸ واحد پول در مدت ۳ سال و سرمایه ی سومی ۱۵ واحد پول در مدت ۴ سال منظور شده است. سود متناسب با حاصل ضرب سرمایه در مدت، تقسیم می شود. سهم سومی چند درصد این سود است؟

- ۱- ۲۹/۵ ۲- ۳۰/۵ ۳- ۳۱/۲۵ ۴- ۳۲/۷۵

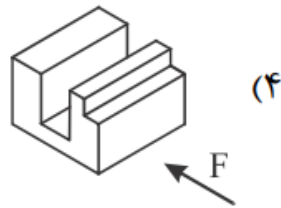
۱۴- کدام جسم از پنج صفحه ی نیمرخ تشکیل شده است؟



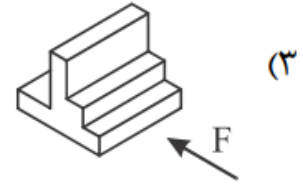
(۲)



(۱)



(۴)



(۳)

۱۵- کدام نوع تزئین در استحکام بیشتر سفال، نقش دارد؟

۴- لعاب یکدست

۳- نقش افزوده

۲- نقش کنده

۱- نقش بریده

فروشگاه
۰۹۱۷۰۵۲۱۹۲