

## خودسنجی ۹۷ ش.ج

### زهرا جوکار :مدرس ،برنامه ریز و مشاور کنکور هنر

۱- تابلوی مجلس درس ابوعلی سینا و تابلوی بزم شاه عباس به تقلید از چهل ستون، از آثار کدام هنرمند است؟

۱- هادی تجویدی      ۲- حاج میرزا آقا امامی      ۳- حسین بهزاد      ۴- عیسی بهادری

۲- بیشترین آثار استاد جواد رستم شیرازی را کدام نمونه ها دربرمی گیرد؟

۱- نقاشی روی چرم و هنر سوخت  
۲- ترکیب لچک و ترنج و گرفت و گیر  
۳- کشیدن تصاویر اشخاص و مصور کردن سفرنامه ها  
۴- پرتره های ظریف با شیوه ی پرداز

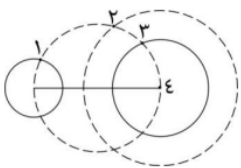
۳- اسلوب سوم در نقاشی دیواری رومی با کدام مشخصات ظهور کرد؟

۱- هنرمند تصویر را چنان نقاشی می کرد که ناظر با نگاه خود از فضای داخل به فضای بیرون هدایت می شود.

۲- در این شیوه هیچ عنصری از واقعیت وجود ندارد و دیوار با سطوح رنگین تزیین می گردد.

۳- دیوار با شبه ستونهای باریک جدا می شد و داخل هر قاب یک صحنه را جداگانه به تصویر می کشیدند.

۴- نمای مرمرین در حاشیه ی دیوار قاب بندی و تزیینات و دورنما توأمأ به کار گرفته می شد.



۴- کدام گزینه در مورد حجمی که دو نمای آن داده شده است صحیح است ؟

۱- یک صفحه تقارن      ۲- دو صفحه تقارن و یک محور

۳- یک صفحه تقارن و یک محور      ۴- دو صفحه تقارن



۵- شیوه صفحه آرایی مقابل برای کدام موضوع مناسب نیست؟

۱- معرفی تور گردشگری

۲- تبلیغات مد

۳- گزارش ورزشی

۴- گزارش یک رویداد فرهنگی هنری



۶- اثر مقابل توسط کدام هنرمند به وجود آمده است؟

۱- تئودور ژریکو

۲- تیه پولو

۳- دلاکروا

۴- رامبراند



۷- در تصویر مقابل با توجه به تکنیک تصویر کدام مفهوم ایجاد شده است؟

۱- فرار

۲- مرگ

۳- ترس

۴- نابودی

۸- کدامیک از جمله گوشه های با مد نامعین (ریتیمیک) نیست؟

۱- بسته نگار

۲- حزین

۳- پنجه شعری

۴- منصوره

۹- "گفتاواز" نام دیگر کدام گونه موسیقایی است؟

۱- توکاتا

۲- آریا

۳- پرلود

۴- رسیتاتیف

۱۰- قسمت اعظم کدام سنگ از ذرات رُس تشکیل شده است؟

۱- گری واک

۲- دولومیت

۳- آرکوز

۴- شیل

۱۱- مواجهه ی خدا و انسان و بازتاب هر چه انسانی تر شدن نیروهای طبیعی و فوق طبیعی در هنر بین النهرین، در کدام گزینه دیده می شود؟

۱- پیکره ی گودئا ۲- پرچم اور ۳- لوح قوانین حمورابی ۴- لوح پیروزی نارامسین

۱۲- تصاویر منقوش بر جام طلای مارلیک، بیانگر چیست؟

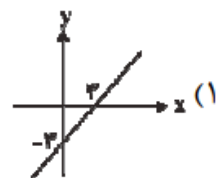
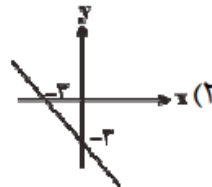
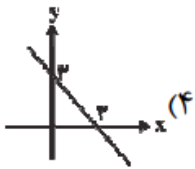
۱- پیروزی پادشاه بر دشمنان به کمک نیروهای آیینی

۲- چیرگی انسان بر حیوان جهت توسعه ی کشاورزی

۳- تداوم زندگی، بقاء و باروری

۴- پیروزی پهلوان بر نیروهای اهریمنی تحت حمایت خدای اسطوره ای

۱۳- کدام یک از گزینه های زیر، نمودار خط  $x + y = 3$  را نشان می دهد؟



۱۴- اگر به یک عدد طبیعی ۸ واحد افزوده شود، به مجذور آن  $2080$  واحد اضافه می شود. باقی مانده ی این عدد طبیعی بر ۹ کدام است؟

۳-۴

۲-۳

۱-۲

۱-صفر

۱۵- تصویر قائم کدام دو نقطه بر هم منطبق است؟

۲-  $(12, 3, 6)$  و  $(5, 9, 3)$

۱-  $(2, 4, 6)$  و  $(2, 4, 8)$

۴-  $(2, 5, 3)$  و  $(2, 7, 3)$

۳-  $(6, 5, 8)$  و  $(8, 5, 7)$