

خودسنجی ۴۸ ش.ج

زهرا جوکار: مدرس، مشاور و برنامه ریز کنکور هنر

۱- در رابطه با گروه لنزهای تله کدام یک از جملات زیر درست است؟

۱- لنزهای تله دارای فاصله ی کانونی های بلندتر از لنز نرمال می باشند و زاویه ی دید کمتر

۲- لنزهای تله دارای فاصله ی کانونی بلندتر از لنز نرمال می باشند و زاویه ی دید بیشتر

۳- لنزهای تله دارای فاصله ی کانونی کوتاه تر از لنز نرمال می باشند و زاویه ی دید بیشتر

۴- لنزهای تله دارای فاصله ی کانونی کوتاه تر از لنز نرمال می باشند و زاویه ی دید کمتر

۲- در اواخر دهه ی ۵۰ این جنبش برای توجه بیشتر مخاطبان جوان خود بوجود آمد .

۴- پست مدرنیسم

۳- مدرنیسم

۲- موج نو

۱- سینمای هنری

۳- علامت مسابقات المپیک جزو کدامیک از نشانه هاست؟

۴- خدماتی

۳- نمادین

۲- تلفیقی

۱- شمالی

۴- ترتیب سبکی به سنگینی رنگ ها در کدام گزینه درست آمده است؟

۱- سبز؛ بنفش، آبی؛ قرمز

۲- خاکستری، آبی؛ زرد، سیاه

۴- سفید، خاکستری، بنفش، آبی

۳- سبز، قرمز؛ بنفش، سیاه

۵- کدام یک چوبی سیاه رنگ، خیلی سنگین و خیلی سخت است که از آن چوب بیلارد درست می کنند؟

۴- اکومه

۳- ماهآگونی

۲- ماهون

۱- آبنوس

۶- "نیپتس" برای عکاسی از چه ترکیباتی استفاده کرد؟

۱- بیتوم و کلوفان ۲- نفت و بیتوم ۳- بیتوم و تربانتین ۴- کلوفان و تربانتین

۷- در کدام یک از محوطه های تاریخی زیر شهری با عنوان "هیکاتوم پولیس" قرار داشت ؟

۱- نساء ۲- قوس ۳- ری ۴- زیویه

۸- کدام یک به عنوان کاخ اختصاصی خشایارشا در تخت جمشید شناخته می شود ؟

۱- کاخ هدیش ۲- قصر تچر ۳- تالار شورا ۴- بنای ساخلو

۹- طرح و نقشه ی کدام یک از ساختمانهای زیر، الگوی بسیاری از ابنیه ی ایرانی در ادوار اسلامی (به ویژه عصر سلجوقی) قرار گرفت ؟

۱- کاخ تخت سلیمان ۲- کاخ آشور ۳- قصر الحضر ۴- آپادانای تخت جمشید

۱۰- کدام یک از کاخهای هخامنشی به عنوان "موزه ی خط" معروف است ؟

۱- کاخ آپادانا ۲- کاخ تچرا ۳- کاخ ۳ دروازه ۴- کاخ پاساگارد

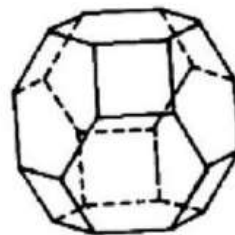
۱۱- وجه اختلاف هنر روکوکو با الگوهای هنری پیش از خود چه بود؟

۱- توجه به مواهب زندگی مردم عادی

۲- بسط جنبه هایی از انسان گرایی

۳- آزادی بیشتر در موضوع و طرح و رنگ

۴- آمیزش هنر تجملی شکوهمند و تمایلات مذهبی



۱۲- حجم مقابل چند وجه دارد؟

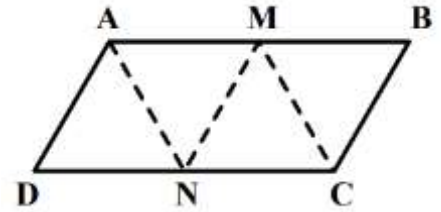
۱۶-۴

۱۴-۳

۱۲-۲

۱۰-۱

۱۳- شکل زیر گسترده یک چهاروجهی بر روی صفحه است. کدام دو رأس بر هم منطبق بوده اند؟

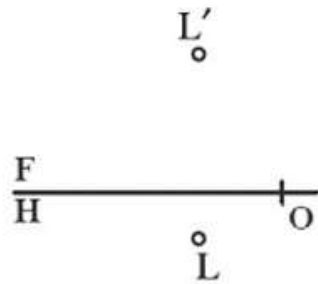


M و D-۴

N و B-۳

D و C-۲

C و A-۱



۱۴- کدام مختصات مربوط به نقطه L است؟

(۶,۱۰,۲)-۴

(۴,۲,۹)-۳

(۲,۸,۵)-۲

(۳,۷,۱۱)-۱

۱۵- نسبت بسامدی $\frac{8}{3}$ مربوط به کدام فاصله می باشد؟

۴- ذوالکل و المرتین

۳- ذوالکل و الاربع

۲- ذوالکل

۱- ذوالخمس

www.52192.com